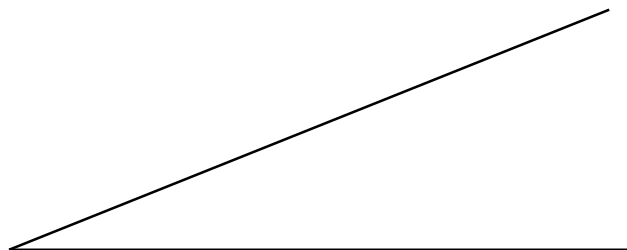

Izen – abizenak: _____

Oinarrizko trazadurak Geometrian

1. Segmentu bat bi zati berdinetan banatzen: erdibitzailea.



2. Angelu bat bi zati berdinetan banatzen: erdikaria.



3. Zuzen baten P puntutik igarotzen den elkartzuta trazatzen.

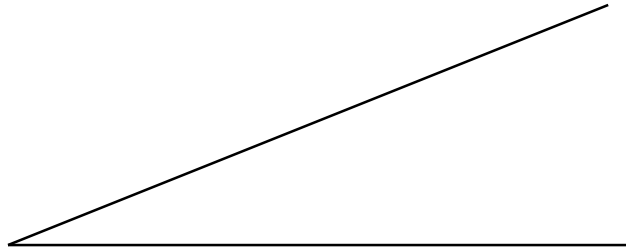
P

4. Zuzen baten elkartzuta trazatzen P kanpoko puntu batetik igaroz.

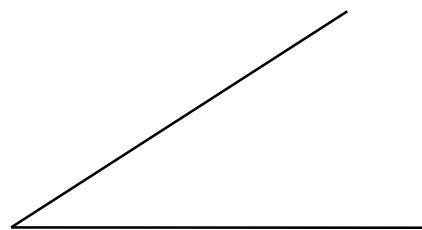
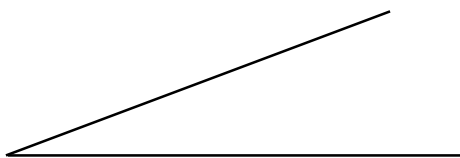
. P

5. Angeluak marrazten:

5.1. Emandako angeluaren berdina marraztu.




5.2. Balio desberdineko angeluak batu.



5.3. Angelu bati angelu txikiagoa kendu.



5.4. Angelu zuzena hiru angelu berdinetan zatitu.



6. Segmentu bat zati berdinetan banatzen: Thalesen teorema.

6.1. Banatu beheko segmentua 5 zati berdinetan Thalesen teorema erabiliz.

6.2. Banatu beheko segmentua 7 zati berdinetan Thalesen teorema erabiliz.

Forma lauen marrazketa geometrian

1. Triangelu aldeakidea marrazten, aldea ezagutua.


a

2. Triangelu isoszelea marrazten, aldeak ezagutua.

a (oinarria)

b

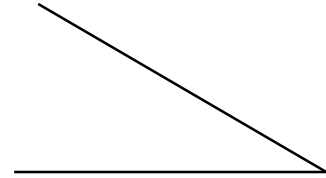
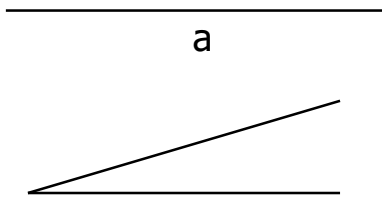
3. Triangelua marrazten, hiru aldeak ezagunak direnean.



4. Triangelua marrazten, bi alde eta euren arteko angelua ezagunak direnean.



5. Triangelua marrazten, alde bat eta bi erpinetako angeluak ezagunak direnean.



6. Triangelu angelu zuzena marrazten, hipotenusa eta kateto bat ezagunak direnean.

